

1

**Popiš ostatním uspořádání  
tvarů tangramu tak, aby ho  
správně sestavili!**

(na zadání na druhé straně se můžeš dívat jen ty)

1

**Popiš ostatním uspořádání  
tvarů tangramu tak, aby ho  
správně sestavili!**

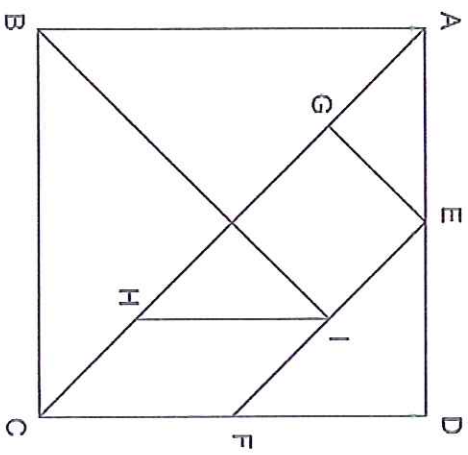

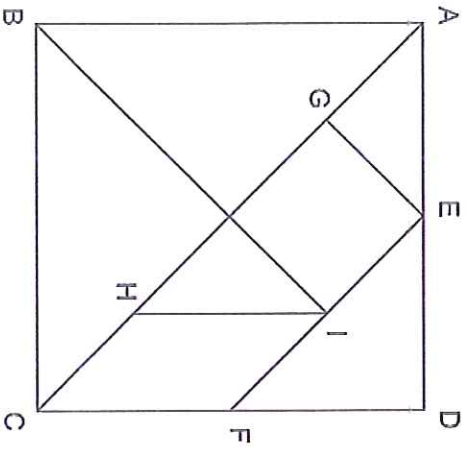

(na zadání na druhé straně se můžeš dívat jen ty)

2

**Uspořádání tangramu si  
zapamatujte, zbořte a bez  
předlohy znovu sestavte!**

2

**Uspořádání tangramu si  
zapamatujte, zbořte a bez  
předlohy znovu sestavte!**



3

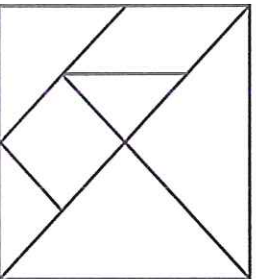
Seřadte obrazce tangramu  
podle velikosti plochy  
sestupně!

3

Seřadte obrazce tangramu  
podle velikosti plochy  
sestupně!

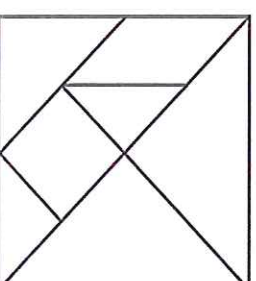
4

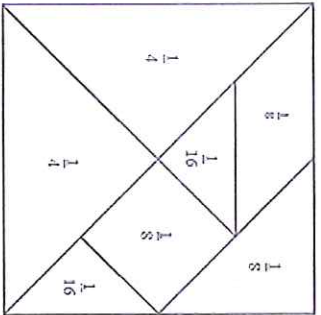
Rozdělte dva obrazce  
úsečkami tak, aby tangram  
byl složen již pouze z  
rovnoramenných trojúhelníků!



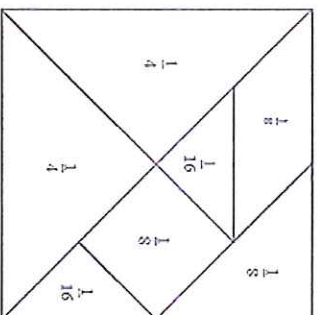
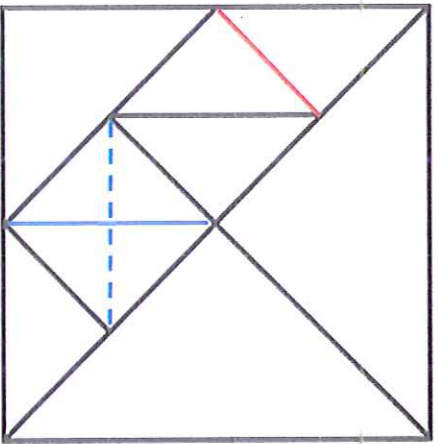
4

Rozdělte dva obrazce  
úsečkami tak, aby tangram  
byl složen již pouze z  
rovnoramenných trojúhelníků!

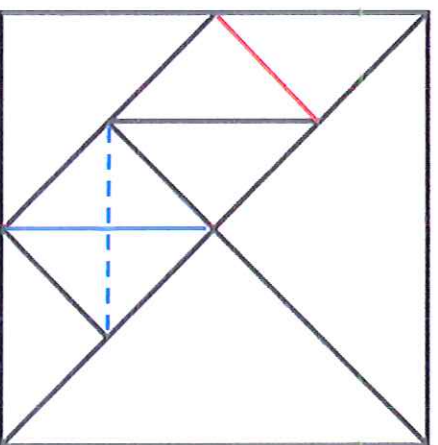




Z,Z  
X=Y=V  
V,V

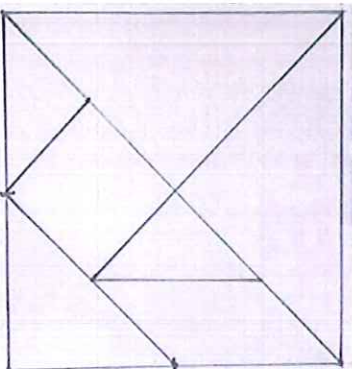


Z,Z  
X=Y=V  
V,V



5

Rozhodněte, které rozměry vám postačí k narysování tangramu.

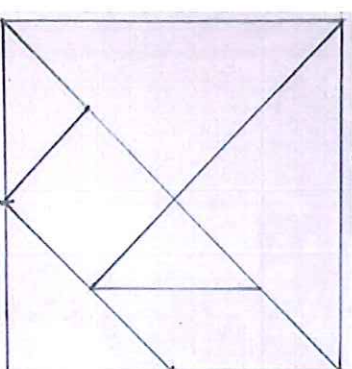


6

Sestavte tangram do tvaru obdelníku!

5

Rozhodněte, které rozměry vám postačí k narysování tangramu.



6

Sestavte tangram do tvaru obdelníku!



